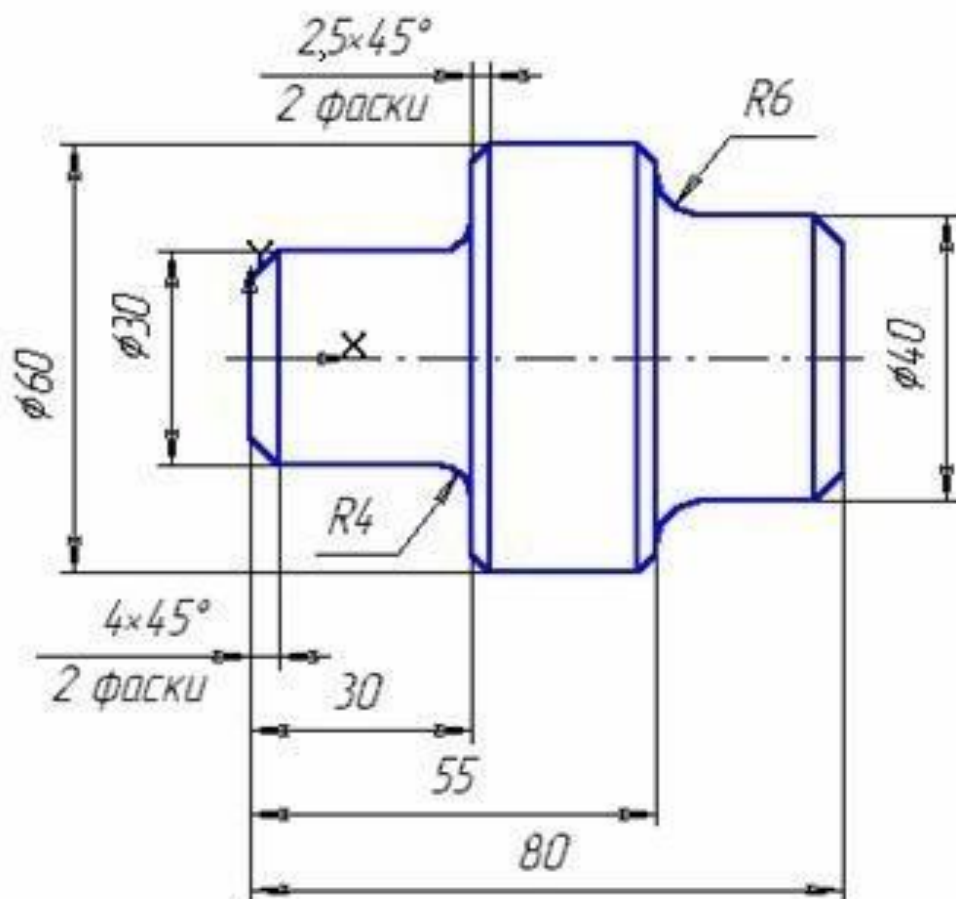


Задание по дисциплине КОМПЬЮТЕРНАЯ ГРАФИКА

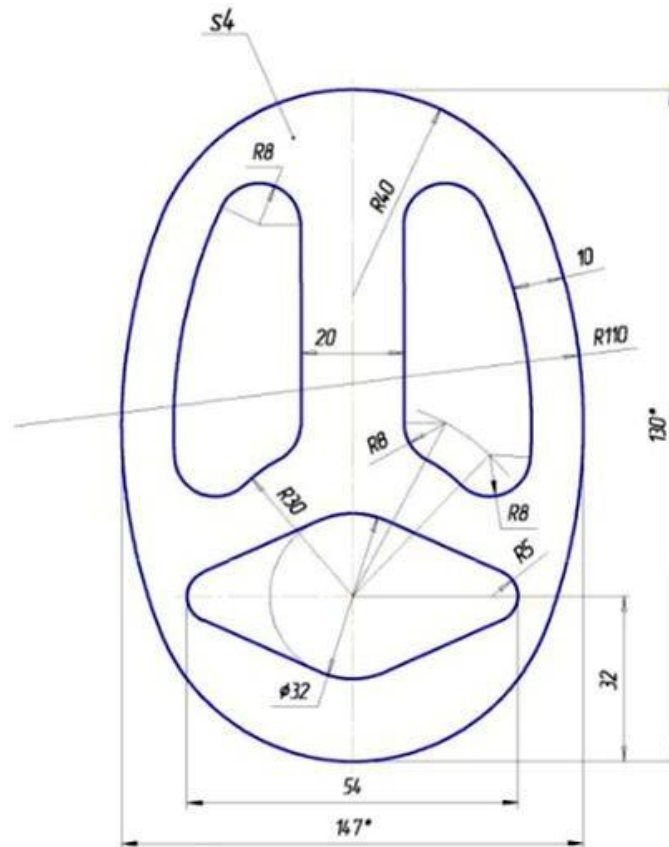
ИСПОЛЬЗОВАНИЕ ЛОКАЛЬНЫХ СИСТЕМ КООРДИНАТ ПРИ ПОСТРОЕНИИ ИЗОБРАЖЕНИЙ ДЕТАЛЕЙ. ПОСТРОЕНИЕ СОПРЯЖЕНИЙ И НАНЕСЕНИЕ РАЗМЕРОВ

Ссылка для скачивания программы Компас 3D – <https://disk.yandex.ru/d/CUNP9WSacHy8Vw>

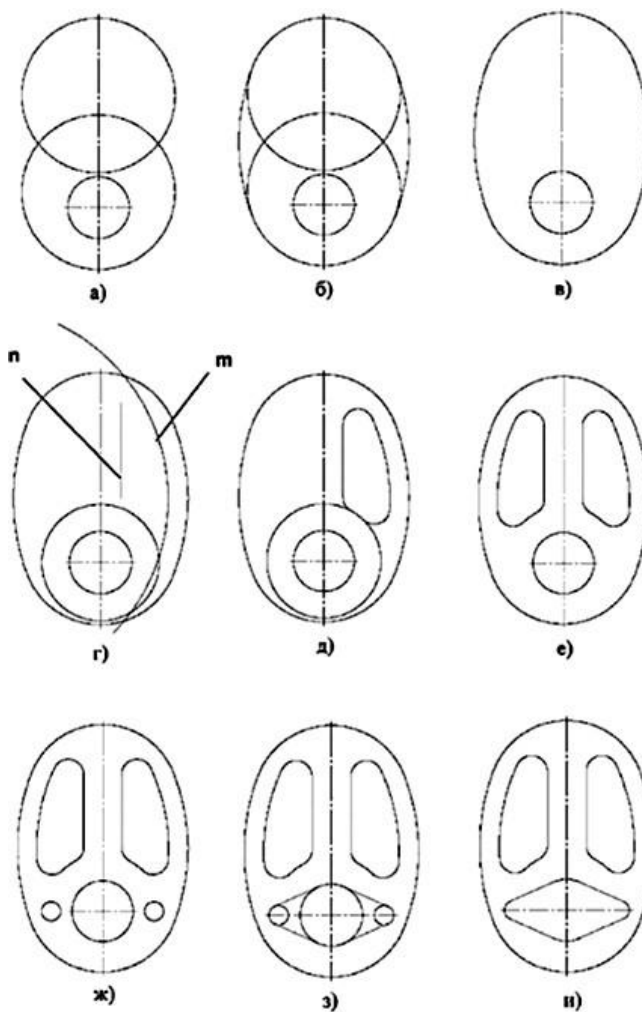
1. Перейти по ссылке https://oplk.ucoz.com/Kompas/Books/Lab.htm#_Toc509767463
2. Постройте чертеж (формат А3, горизонтальная ориентация, шрифт Gost Type B, размер надписей 3,5) детали по заданным размерам, в правой стороне формата над таблицей основной надписи, проставьте размеры, рис.13.
Следуйте по инструкции.



3. На этом же формате, в левой стороне формата построить чертеж.



Последовательность выполнения задания



- Установить точность размерных надписей – число знаков после запятой 0.
(рис. 2).
- Выполнить расстановку размеров как на примере. (рис.2)
- Заполнить основную надпись.

				КГ 23.02.07 19021 15 37			
				Очертания технических форм			
Изм.	Лист	№ докум.	Подп.	Дата	Лит.	Масштаб	
Разраб.	Иванов И.				У		1:1
Проб.	Андреева В.С.				Лист	Листов	1
Т.контр.					ОГАПОУ БПК гр.37 ТО		
И.контр.					Формат А3		
Мтб					Копировал		

- Сохранить файл под своей фамилией и датой выполнения.